

제 2 교시

수학 영역

5지선다형

1. $2^{\sqrt{3}} \times 2^{2-\sqrt{3}}$ 의 값은? [2점]

- ① $\sqrt{2}$ ② 2 ③ $2\sqrt{2}$ ④ 4 ⑤ $4\sqrt{2}$

2. 함수 $f(x)$ 가

$$x^3 - x^2 + 1$$

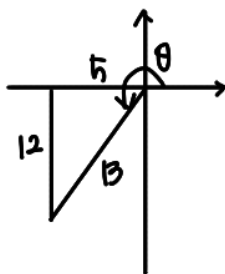
$$f'(x) = 3x^2 - 2x, \quad f(1) = 1$$

을 만족시킬 때, $f(2)$ 의 값은? [2점]

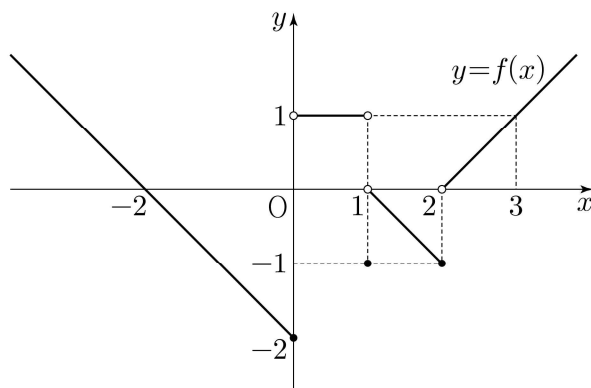
- ① 1 ② 2 ③ 3 ④ 4 ⑤ 5

3. $\pi < \theta < \frac{3}{2}\pi$ 인 θ 에 대하여 $\tan \theta = \frac{12}{5}$ 일 때, $\sin \theta + \cos \theta$ 의 값은? [3점]

- ① $-\frac{17}{13}$ ② $-\frac{7}{13}$ ③ 0 ④ $\frac{7}{13}$ ⑤ $\frac{17}{13}$



4. 함수 $y = f(x)$ 의 그래프가 그림과 같다.



$\lim_{x \rightarrow 0^-} f(x) + \lim_{x \rightarrow 2^+} f(x)$ 의 값은? [3점]

- ① -2 ② -1 ③ 0 ④ 1 ⑤ 2

5. 다항함수 $f(x)$ 에 대하여 함수 $g(x)$ 를

$$g(x) = (x^2 + 3)f(x) \rightarrow 2xf(x) + (x^2 + 3)f'(x)$$

라 하자. $f(1) = 2$, $f'(1) = 1$ 일 때, $g'(1)$ 의 값은? [3점]

- ① 6 ② 7 ③ 8 ④ 9 ⑤ 10

$$\therefore g'(1) = 2 \times 2 + 4 \times 1 = 8$$

6. 곡선 $y = 3x^2 - x$ 와 직선 $y = 5x$ 로 둘러싸인 부분의 넓이는?

[3점]

- ① 1 ② 2 ③ 3 ④ 4 ⑤ 5

$$\left| \int_0^2 (3x^2 - 6x) dx \right| = \frac{1}{6} \cdot 3 \cdot 2^3 = 4$$

7. 첫째항이 2인 등차수열 $\{a_n\}$ 의 첫째항부터 제 n 항까지의 합을 S_n 이라 하자.

$$a_6 = 2(S_3 - S_2) = 2a_3 \rightarrow a_3 = a_6 - a_3 = 3d$$

일 때, S_{10} 의 값은? [3점]

$$\begin{cases} a_1 = 2 \\ \Rightarrow 3d - 2 = 2d, d = 2 \end{cases}$$

- ① 100 ② 110 ③ 120 ④ 130 ⑤ 140

$$\therefore S_{10} = 10a_{\frac{10}{2}} = 10 \times (2 + 4.5 \times 2) = 110$$

8. 함수

$$f(x) = \begin{cases} -2x+6 & (x < a) \\ 2x-a & (x \geq a) \end{cases}$$

에 대하여 함수 $\{f(x)\}^2$ 이 실수 전체의 집합에서 연속이 되도록 하는 모든 상수 a 의 값의 합은? [3점] #270609

- ① 2 ② 4 ③ 6 ④ 8 ⑤ 10

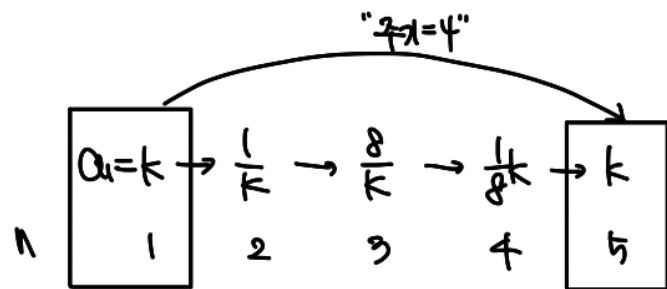
i) $-2a+6=a, a=2.$
 ii) $-2a+6=-a, a=6$
 $\therefore \Sigma a = 8$

9. 수열 $\{a_n\}$ 이 모든 자연수 n 에 대하여

$$a_{n+1} = \begin{cases} \frac{1}{a_n} & (n \text{이 홀수인 경우}) \\ 8a_n & (n \text{이 짝수인 경우}) \end{cases}$$

이고 $a_{12} = \frac{1}{2}$ 일 때, $a_1 + a_4$ 의 값은? [4점]

- ① $\frac{3}{4}$ ② $\frac{9}{4}$ ③ $\frac{5}{2}$ ④ $\frac{17}{4}$ ⑤ $\frac{9}{2}$



$\Rightarrow a_2 = a_4 = \frac{1}{2} \Rightarrow k = 4$

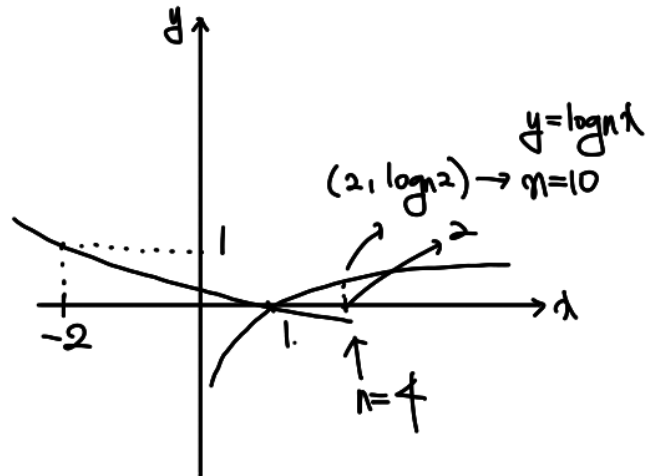
$\therefore a_1 + a_4 = 4 + \frac{1}{2} = \frac{9}{2}$

10. $n \geq 2$ 인 자연수 n 에 대하여 두 곡선

$$y = \log_n x, \quad y = -\log_n(x+3)+1$$

이 만나는 점의 x 좌표가 1보다 크고 2보다 작도록 하는 모든 n 의 값의 합은? [4점]

- ① 30 ② 35 ③ 40 ④ 45 ⑤ 50



$$\log_n 2 = -\log_n(x+3)+1$$

$$\Rightarrow \log_n 10 = 1, n=10$$

$$\therefore \Sigma n = 4+6+7+8+9 = 35$$

11. 닫힌구간 $[0, 1]$ 에서 연속인 함수 $f(x)$ 가

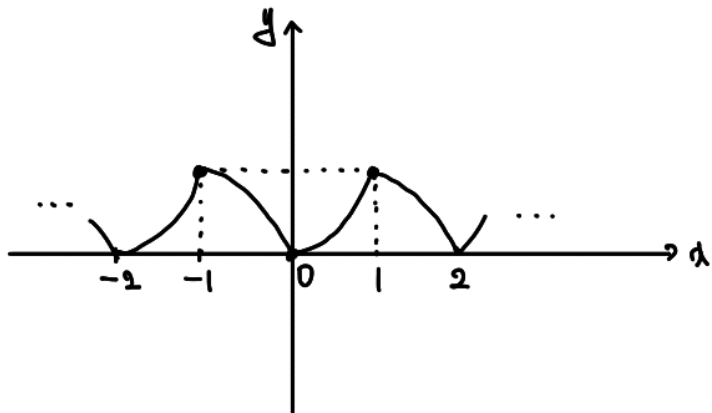
$$f(0) = 0, \quad f(1) = 1, \quad \int_0^1 f(x) dx = \frac{1}{6}$$

을 만족시킨다. 실수 전체의 집합에서 정의된 함수 $g(x)$ 가 다음 조건을 만족시킬 때, $\int_{-3}^2 g(x) dx$ 의 값은? [4점]

(가) $g(x) = \begin{cases} -f(x+1)+1 & (-1 < x < 0) \\ f(x) & (0 \leq x \leq 1) \end{cases}$

(나) 모든 실수 x 에 대하여 $g(x+2) = g(x)$ 이다.

- ① $\frac{5}{2}$ ② $\frac{17}{6}$ ③ $\frac{19}{6}$ ④ $\frac{7}{2}$ ⑤ $\frac{23}{6}$



$$\therefore \int_{-3}^2 g(x) dx = 1 + 1 + \frac{1}{6} = \frac{17}{6}$$

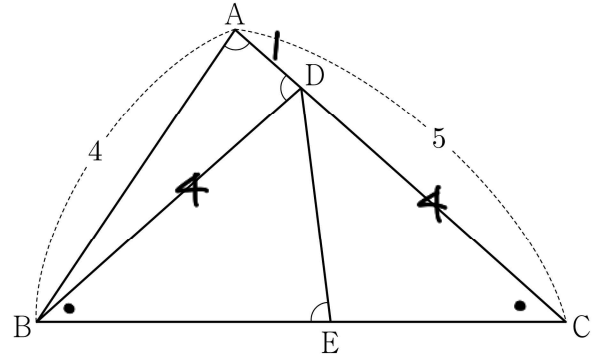
12. 그림과 같이 $\overline{AB} = 4$, $\overline{AC} = 5$ 이고 $\cos(\angle BAC) = \frac{1}{8}$ 인

삼각형 ABC가 있다. 선분 AC 위의 점 D와 선분 BC 위의 점 E에 대하여

$$\angle BAC = \angle BDA = \angle BED$$

일 때, 선분 DE의 길이는? [4점]

$$\begin{aligned} \overline{BC} = b, \quad \sin \angle A &= \frac{3\sqrt{7}}{8} \\ \Rightarrow \sin \angle C &= \frac{3\sqrt{7}}{8} \cdot \frac{4}{6} = \frac{\sqrt{7}}{4} \end{aligned}$$



- ① $\frac{7}{3}$ ② $\frac{5}{2}$ ③ $\frac{8}{3}$ ④ $\frac{17}{6}$ ⑤ 3

$$\therefore \overline{DE} = 1 \cdot \frac{\frac{\sqrt{7}}{4}}{\frac{3\sqrt{7}}{8}} = \frac{8}{3}$$

(*참고: D에서 BC에 수선 내기 때타라노도 아)

13. 실수 전체의 집합에서 정의된 함수 $f(x)$ 가 구간 $(0, 1]$ 에서

$$f(x) = \begin{cases} 3 & (0 < x < 1) \\ 1 & (x = 1) \end{cases}$$

이고, 모든 실수 x 에 대하여 $f(x+1) = f(x)$ 를 만족시킨다.

$\sum_{k=1}^{20} \frac{k \times f(\sqrt{k})}{3}$ 의 값은? [4점]

- ① 150 ② 160 ③ 170 ④ 180 ⑤ 190

$$\begin{aligned} \sum_{k=1}^{20} \frac{k \times f(\sqrt{k})}{3} &= \sum_{k=1}^{20} k - \frac{2}{3} \times (1 + 4 + 9 + 16) \\ &= \frac{1}{2} \times 20 \times 21 - 20 = 190 \end{aligned}$$

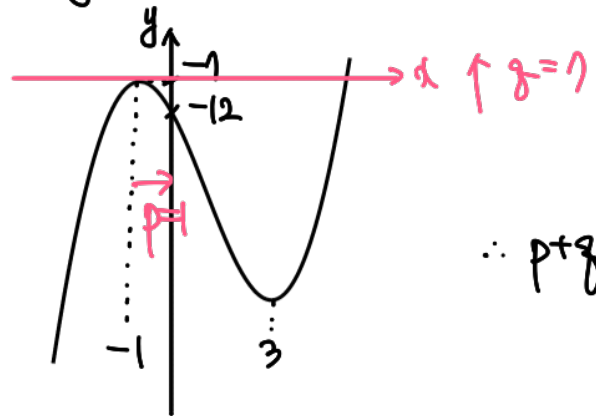
14. 두 양수 p, q 와 함수 $f(x) = x^3 - 3x^2 - 9x - 12$ 에 대하여 실수 전체의 집합에서 연속인 함수 $g(x)$ 가 다음 조건을 만족시킬 때, $p+q$ 의 값은? [4점]

$$x^2 - 6x - 9 = 3(x-3)(x+1)$$

- (가) 모든 실수 x 에 대하여 $xg(x) = |xf(x-p) + qx|$ 이다.
 (나) 함수 $g(x)$ 가 $x=a$ 에서 미분가능하지 않은 실수 a 의 개수는 1이다.

- ① 6 ② 7 ③ 8 ④ 9 ⑤ 10

$$g(x) = \text{sgn}(x) \times (f(x-p) + q)$$



$\therefore p+q = 8$

(*참고) : $\text{sgn}(x) = \begin{cases} -1 & (x < 0) \\ 0 & (x = 0) \\ 1 & (x > 0) \end{cases}$

15. $-1 \leq t \leq 1$ 인 실수 t 에 대하여 x 에 대한 방정식

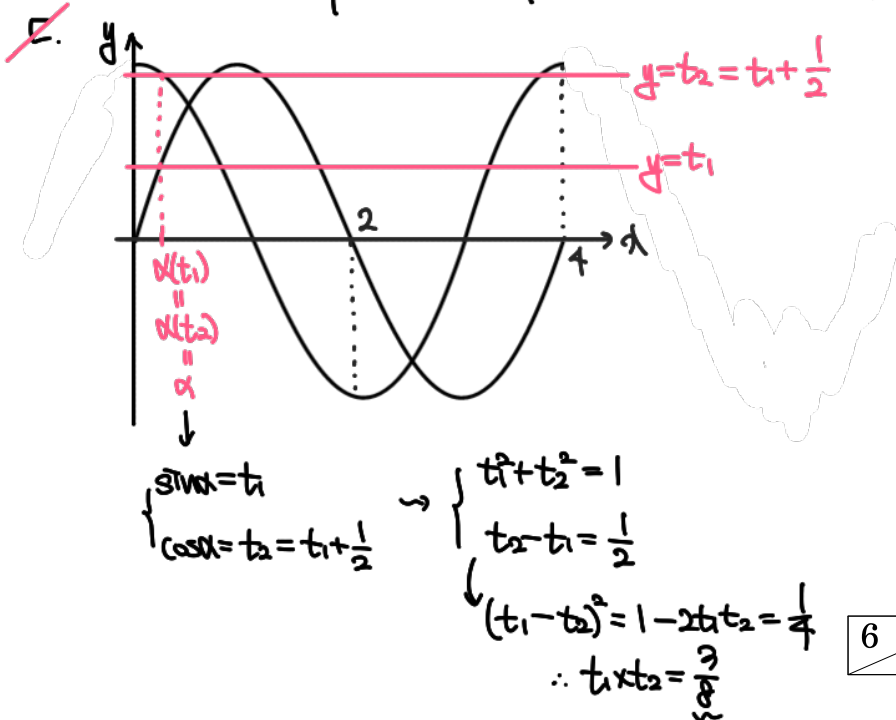
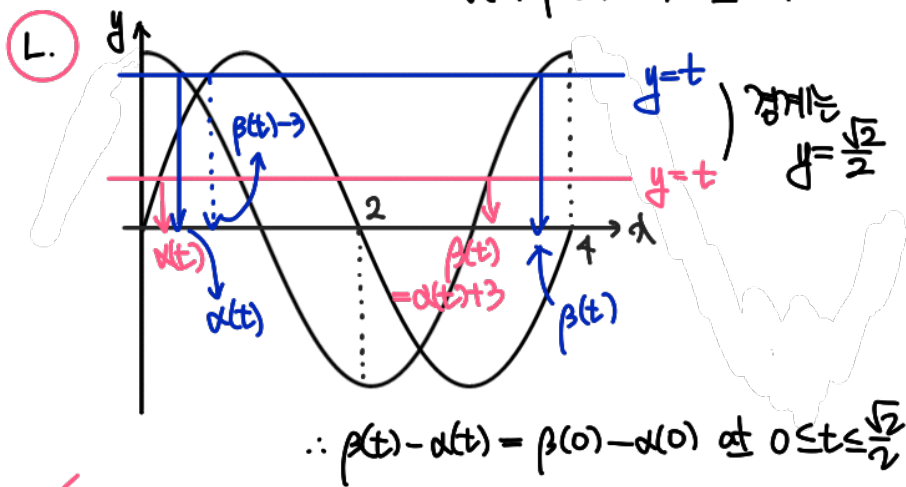
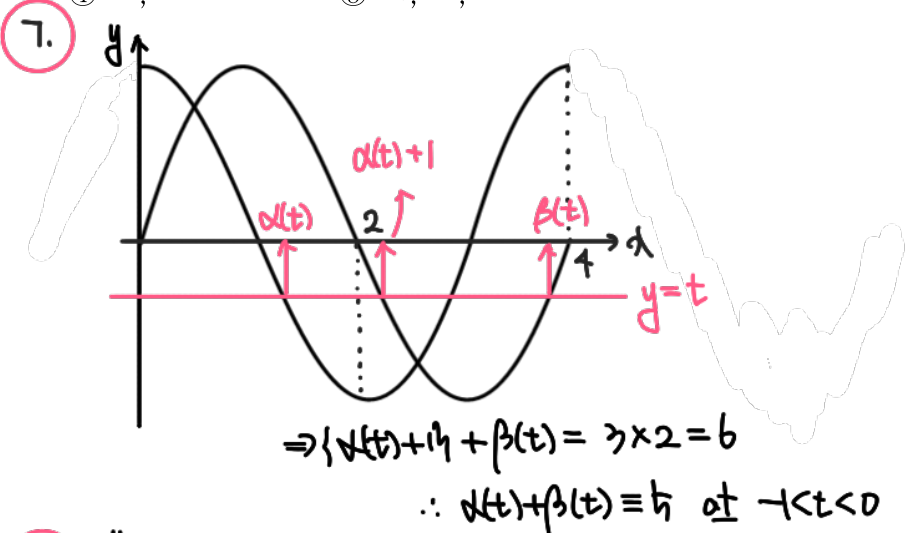
$$\left(\sin \frac{\pi x}{2} - t\right)\left(\cos \frac{\pi x}{2} - t\right) = 0$$

의 실근 중에서 집합 $\{x | 0 \leq x < 4\}$ 에 속하는 가장 작은 값을 $\alpha(t)$, 가장 큰 값을 $\beta(t)$ 라 하자. <보기>에서 옳은 것만을 있는 대로 고른 것은? [4점]

<보기>

- ㄱ. $-1 \leq t < 0$ 인 모든 실수 t 에 대하여 $\alpha(t) + \beta(t) = 5$ 이다.
- ㄴ. $\{t | \beta(t) - \alpha(t) = \beta(0) - \alpha(0)\} = \left\{t \mid 0 \leq t \leq \frac{\sqrt{2}}{2}\right\}$
- ㄷ. $\alpha(t_1) = \alpha(t_2)$ 인 두 실수 t_1, t_2 에 대하여 $t_2 - t_1 = \frac{1}{2}$ 이면 $t_1 \times t_2 = \frac{1}{3}$ 이다.

- ① ㄱ ② ㄱ, ㄴ ③ ㄱ, ㄷ
- ④ ㄴ, ㄷ ⑤ ㄱ, ㄴ, ㄷ



단답형

16. $\log_4 \frac{2}{3} + \log_4 24$ 의 값을 구하시오. [3점]

$$\log_4 16 = 2$$

17. 함수 $f(x) = x^3 - 3x + 12$ 가 $x = a$ 에서 극소일 때, $a + f(a)$ 의 값을 구하시오. (단, a 는 상수이다.) [3점]

$\Rightarrow 3a^2 - 3 = 0$

$$a + f(a) = 1 + (12 - 3 + 1) = 11$$

18. 모든 항이 양수인 등비수열 $\{a_n\}$ 에 대하여

$$a_2 = 36, \quad \frac{a_7}{r^2} = \frac{1}{3} \frac{a_5}{r^2}$$

일 때, a_6 의 값을 구하시오. [3점]

$$\therefore a_6 = a_2 r^4 = 4$$

19. 수직선 위를 움직이는 점 P의 시각 $t (t \geq 0)$ 에서의 속도 $v(t)$ 가

$$v(t) = 3t^2 - 4t + k \quad \begin{cases} s(t) = t^3 - 2t^2 + kt \\ s(1) = k - 1 = -3, \quad k = -2 \end{cases}$$

이다. 시각 $t=0$ 에서 점 P의 위치는 0이고, 시각 $t=1$ 에서 점 P의 위치는 -3 이다. 시각 $t=1$ 에서 $t=3$ 까지 점 P의 위치의 변화량을 구하시오. (단, k 는 상수이다.) [3점]

$$\Rightarrow s(t) = t^3 - 2t^2 - 2t$$

$$\begin{aligned} \therefore \Delta s_{t=1 \sim 3} &= s(3) - s(1) \\ &= 3 - (-3) = 6 \end{aligned}$$

20. 실수 a 와 함수 $f(x) = x^3 - 12x^2 + 45x + 3$ 에 대하여 함수

$$g(x) = \int_a^x \{f(x) - f(t)\} \times \{f(t)\}^4 dt = 3(x-3)(x-t)$$

\downarrow
 $f(x) = 3x^2 - 24x + 45$

가 오직 하나의 극값을 갖도록 하는 모든 a 의 값의 합을 구하시오. [4점]

\downarrow
"극값부변"

$$g(x) = f(x) \cdot \int_a^x f(t)^4 dt - \int_a^x f(t)^4 dt$$

$$\Rightarrow g(x) = f(x) \cdot \int_a^x f(t)^4 dt$$

\swarrow
 a

$$= 3(x-3)(x-t) \cdot \int_a^x f(t)^4 dt$$

$$\therefore a=3 \text{ or } a=7 \Rightarrow \Sigma a = 8$$

21. 다음 조건을 만족시키는 최고차항의 계수가 1인 이차함수 $f(x)$ 가 존재하도록 하는 모든 자연수 n 의 값의 합을 구하시오. [4점]

(가) x 에 대한 방정식 $(x^n - 64)f(x) = 0$ 은 서로 다른 두 실근을 갖고, 각각의 실근은 중근이다.
 (나) 함수 $f(x)$ 의 최솟값은 음의 정수이다.

by IVT) $f(x)=0$ 은 두 실근 有.

$\Rightarrow x = \pm 2^{\frac{n}{k}}$ 이 $f(x)=0$ 의 두 실근.

$\Rightarrow f(x) = (x + 2^{\frac{n}{k}})(x - 2^{\frac{n}{k}}) = x^2 - 2^{\frac{2n}{k}}$

$2^{\frac{2n}{k}}$ is 정수.
 어떤 k 의

$\Rightarrow n = 1, 2, 3, 4, 6, 12$


$\therefore \sum n = 24$

22. 삼차함수 $f(x)$ 가 다음 조건을 만족시킨다.

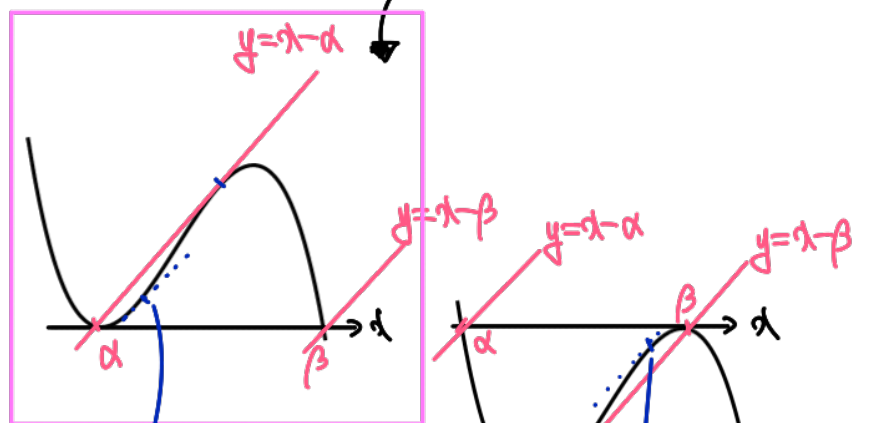
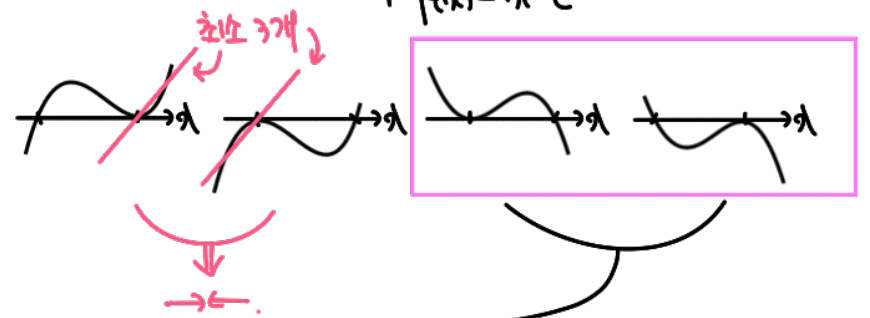
(가) 방정식 $f(x)=0$ 의 서로 다른 실근의 개수는 2이다.
 (나) 방정식 $f(x-f(x))=0$ 의 서로 다른 실근의 개수는 3이다.

$f(1)=4, f'(1)=1, f'(0)>1$ 일 때, $f(0)=\frac{q}{p}$ 이다. $p+q$ 의 값을 구하시오. (단, p 와 q 는 서로소인 자연수이다.) [4점]

(가) $f(x)$ 로 가능한 개형 : $f(\alpha)=f(\beta)=0$



(나) $f(x-f(x))=0 \Leftrightarrow \begin{cases} f(c)=0 \rightarrow \alpha, \beta \\ f(x)=x-c \end{cases}$



여기가 맞다면 $f'(0) < 1$
 등중 하나는 $x=1$ 이므로 $\Rightarrow f'(1) \neq 1$

$\Rightarrow f(x) = -p(x+3)^2(x-1)$ with $f(1)=4 \rightarrow p = \frac{1}{16}$

$\therefore f(x) = -\frac{1}{16}(x+3)^2(x-1), f(0) = \frac{45}{16} \Rightarrow p+q = 61$

* 확인 사항

○ 답안지의 해당란에 필요한 내용을 정확히 기입(표기)했는지 확인하시오.

○ 이어서, 「선택과목(확률과 통계)」 문제가 제시되오니, 자신이 선택한 과목인지 확인하시오.

제 2 교시

수학 영역(미적분)

5지선다형

23. $\lim_{n \rightarrow \infty} \frac{1}{\sqrt{n^2+n+1}-n}$ 의 값은? [2점]

- ① 1 ② 2 ③ 3 ④ 4 ⑤ 5

$$\lim_{n \rightarrow \infty} \frac{\sqrt{n^2+n+1} + n}{n+1} = 2$$

24. 매개변수 t 로 나타내어진 곡선

$$x = e^t + \cos t, \quad y = \sin t$$

$$\gamma(t) = e^t - \sin t, \quad y(t) = \cos t$$

에서 $t=0$ 일 때, $\frac{dy}{dx}$ 의 값은? [3점]

- ① $\frac{1}{2}$ ② 1 ③ $\frac{3}{2}$ ④ 2 ⑤ $\frac{5}{2}$

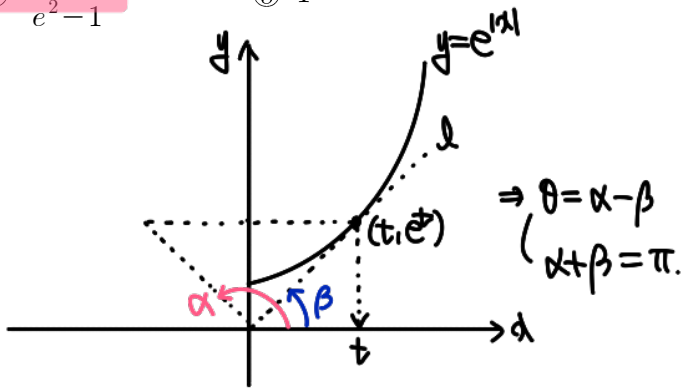
$$\therefore \frac{dy}{dx} \Big|_{t=0} = \frac{y'(0)}{\gamma'(0)} = \frac{1}{1-0} = 1$$

2

수학 영역(미적분)

25. 원점에서 곡선 $y=e^{|x|}$ 에 그은 두 접선이 이루는 예각의 크기를 θ 라 할 때, $\tan\theta$ 의 값은? [3점]

- ① $\frac{e}{e^2+1}$
- ② $\frac{e}{e^2-1}$
- ③ $\frac{2e}{e^2+1}$
- ④ $\frac{2e}{e^2-1}$
- ⑤ 1



\Rightarrow 접선의 기울기 $= (t, e^t)$ 에서 순간변화율
 $\Rightarrow \frac{e^t - 0}{t - 0} = e^t \Rightarrow t = 1 (\because e^t > 0)$
 $\Rightarrow \tan\beta = \frac{e^t}{t} = e, \tan\alpha = \tan(\pi - \beta) = -e$
 $\therefore \tan\theta = \tan(\alpha - \beta) = \frac{-e - e}{1 + e(-e)} = \frac{2e}{e^2 - 1}$

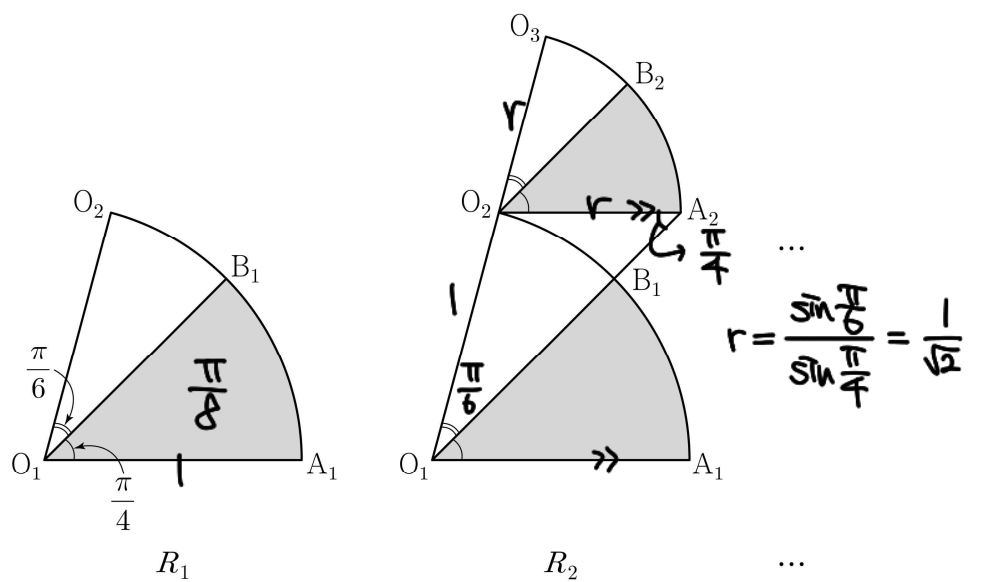
26. 그림과 같이 중심이 O_1 , 반지름의 길이가 1이고 중심각의 크기가 $\frac{5\pi}{12}$ 인 부채꼴 $O_1A_1O_2$ 가 있다. 호 A_1O_2 위에 점 B_1 을

$\angle A_1O_1B_1 = \frac{\pi}{4}$ 가 되도록 잡고, 부채꼴 $O_1A_1B_1$ 에 색칠하여 얻은 그림을 R_1 이라 하자.

그림 R_1 에서 점 O_2 를 지나고 선분 O_1A_1 에 평행한 직선이 직선 O_1B_1 과 만나는 점을 A_2 라 하자. 중심이 O_2 이고 중심각의 크기가 $\frac{5\pi}{12}$ 인 부채꼴 $O_2A_2O_3$ 을 부채꼴 $O_1A_1B_1$ 과 겹치자

않도록 그린다. 호 A_2O_3 위에 점 B_2 를 $\angle A_2O_2B_2 = \frac{\pi}{4}$ 가 되도록 잡고, 부채꼴 $O_2A_2B_2$ 에 색칠하여 얻은 그림을 R_2 라 하자.

이와 같은 과정을 계속하여 n 번째 얻은 그림 R_n 에 색칠되어 있는 부분의 넓이를 S_n 이라 할 때, $\lim_{n \rightarrow \infty} S_n$ 의 값은? [3점]



- ① $\frac{3\pi}{16}$
- ② $\frac{7\pi}{32}$
- ③ $\frac{\pi}{4}$
- ④ $\frac{9\pi}{32}$
- ⑤ $\frac{5\pi}{16}$

$\therefore \lim_{n \rightarrow \infty} S_n = \frac{\pi}{8} \cdot \frac{1}{\frac{1}{\sqrt{2}}} = \frac{\pi}{4}$

27. 두 함수

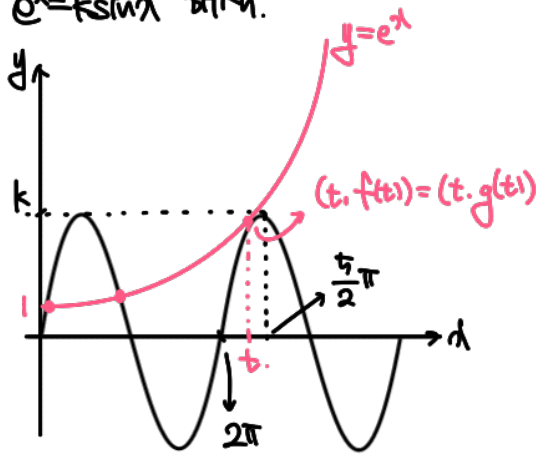
$$f(x) = e^x, \quad g(x) = k \sin x$$

에 대하여 방정식 $f(x) = g(x)$ 의 서로 다른 양의 실근의 개수가 3일 때, 양수 k 의 값은? [3점]

- ① $\sqrt{2}e^{\frac{3\pi}{2}}$ ② $\sqrt{2}e^{\frac{7\pi}{4}}$ ③ $\sqrt{2}e^{2\pi}$
 ④ $\sqrt{2}e^{\frac{9\pi}{4}}$ ⑤ $\sqrt{2}e^{\frac{5\pi}{2}}$

(별도...)

Sol 1) $e^x = k \sin x$ 해키.

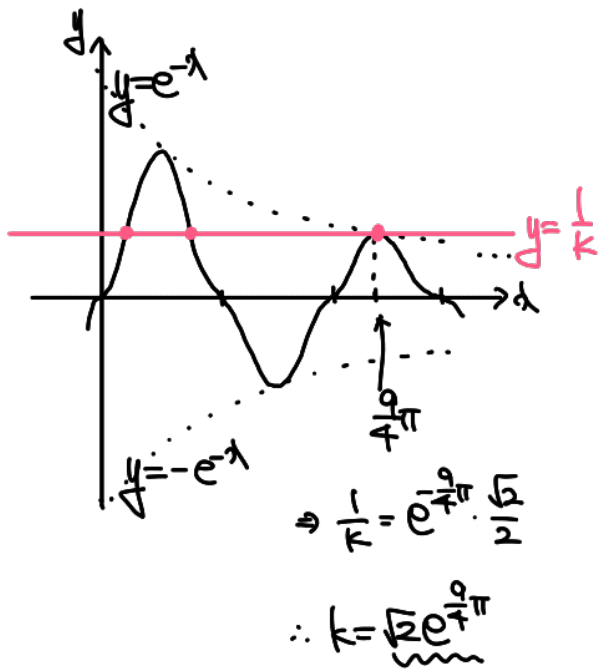


$$\begin{cases} e^t = k \sin t \\ e^t = k \cos t \end{cases} \Rightarrow \sin t = \cos t \text{ with } 2\pi < t < \frac{5}{2}\pi$$

$$\Rightarrow t = \frac{9}{4}\pi$$

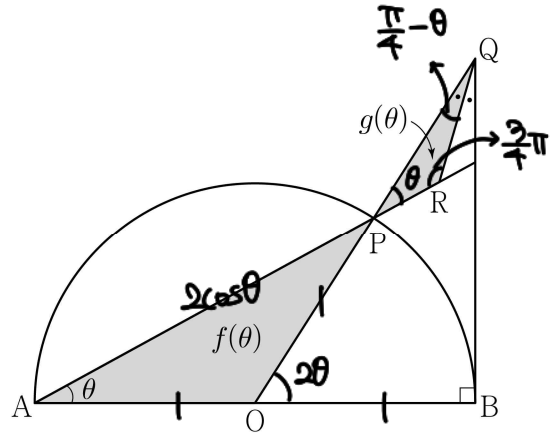
$$\Rightarrow e^{\frac{9}{4}\pi} = k \cdot \frac{\sqrt{2}}{2}, \quad k = \frac{\sqrt{2}e^{\frac{9}{4}\pi}}{2}$$

Sol 2) $\frac{1}{k} = e^{-x} \sin x$ 해키. $\frac{1}{k} = e^{-x}(\cos x - \sin x) \Rightarrow k = \left(\frac{1}{2} + n\right)\pi \quad (n \in \mathbb{Z})$
 이식 가능.



28. 그림과 같이 길이가 2인 선분 AB를 지름으로 하는 반원의 호 AB 위에 점 P가 있다. 선분 AB의 중점을 O라 할 때, 점 B를 지나고 선분 AB에 수직인 직선이 직선 OP와 만나는 점을 Q라 하고, $\angle OQB$ 의 이등분선이 직선 AP와 만나는 점을 R라 하자. $\angle OAP = \theta$ 일 때, 삼각형 OAP의 넓이를 $f(\theta)$, 삼각형 PQR의 넓이를 $g(\theta)$ 라 하자.

$\lim_{\theta \rightarrow 0^+} \frac{g(\theta)}{\theta^4 \times f(\theta)}$ 의 값은? (단, $0 < \theta < \frac{\pi}{4}$) [4점]



- ① 2 ② $\frac{5}{2}$ ③ 3 ④ $\frac{7}{2}$ ⑤ 4

$$f(\theta) = \frac{1}{2} \sin 2\theta$$

$$\overline{OQ} = \sec 2\theta \Rightarrow \overline{PQ} = \sec 2\theta - 1 = \frac{1 - \cos 2\theta}{\cos 2\theta} \rightarrow (1 - \cos 2\theta)$$

$$\text{이때 } \overline{PR} = \overline{PQ} \times \frac{\sin(\frac{\pi}{4} - \theta)}{\sin \frac{3}{4}\pi} = \sqrt{2} \cdot \overline{PQ} \cdot \sin(\frac{\pi}{4} - \theta) \rightarrow \overline{PR}$$

$$\Rightarrow g(\theta) = \frac{1}{2} \times \overline{PQ} \times \overline{PR} \times \sin \theta \rightarrow \frac{1}{2} (1 - \cos 2\theta)^2 \sin \theta$$

$$\therefore \lim_{\theta \rightarrow 0^+} \frac{g(\theta)}{\theta^4 \times f(\theta)} = \lim_{\theta \rightarrow 0^+} \frac{\sin \theta}{\sin 2\theta} \times \left(\frac{1 - \cos 2\theta}{2\theta^2} \right)^2 \times 16$$

$$= \frac{1}{2} \times \left(\frac{1}{2} \right) \times 16 = 2$$

단답형

29. $t > 2e$ 인 실수 t 에 대하여 함수 $f(x) = t(\ln x)^2 - x^2$ 이 $x = k$ 에서 극대일 때, 실수 k 의 값을 $g(t)$ 라 하면 $g(t)$ 는 미분가능한 함수이다. $g(\alpha) = e^2$ 인 실수 α 에 대하여 $\alpha \times \{g'(\alpha)\}^2 = \frac{q}{p}$ 일 때, $p+q$ 의 값을 구하시오.
(단, p 와 q 는 서로소인 자연수이다.) [4점]

$f(x) = t \cdot 2 \ln x \cdot \frac{1}{x} - 2x = \frac{2}{x}(t \ln x - x^2)$

 $\Rightarrow t \ln g(t) = \{g(t)\}^2 \Rightarrow g(t) \sim \frac{t^2}{\ln t}$ 의 오차!
 $g(\alpha) = e^2 \Rightarrow \alpha \ln e^2 = (e^2)^2 \Rightarrow \alpha = \frac{1}{2} e^4$
 $h(g(t)) = t \Rightarrow h(g(t)) \times g(t) = 1$
 $\Rightarrow g(\alpha) = \frac{1}{h(e^2)} = \frac{(\ln e^2)^2}{e^2 \cdot (4-1)} = \frac{4}{3} e^{-2}$
 $\therefore \alpha \times \{g'(\alpha)\}^2 = \frac{1}{2} e^4 \times \frac{16}{9} e^{-4} = \frac{8}{9}, p+q = 17$

30. $t > \frac{1}{2} \ln 2$ 인 실수 t 에 대하여 곡선 $y = \ln(1 + e^{2x} - e^{-2x})$ 과 직선 $y = x + t$ 가 만나는 서로 다른 두 점 사이의 거리를 $f(t)$ 라 할 때, $f'(\ln 2) = \frac{q}{p} \sqrt{2}$ 이다. $p+q$ 의 값을 구하시오.
(단, p 와 q 는 서로소인 자연수이다.) [4점]

$\frac{2e^{2x}}{1+e^{2x}-e^{-2x}} \sim$ 단조 증가.
 $\frac{4e^{2x}(1-e^{-2x})}{(\quad)^2} \sim$ 변곡점 X.

 $y = \ln(1 + e^{2x} - e^{-2x})$
 $y = x + t$
 $\ln(1 + e^{2x} - e^{-2x}) = x + t$
 $\sim 1 + e^{2x} - e^{-2x} = e^{x+t}$
 $\Rightarrow e^{2x} - e^t \cdot e^x + (1 - e^{-2x}) = 0$
 의 두 근이 $\alpha(t), \beta(t)$
 $\Rightarrow f(t) = \sqrt{2} \{ \beta(t) - \alpha(t) \}$
 $\Rightarrow f'(t) = \sqrt{2} \{ \beta'(t) - \alpha'(t) \}$
 $\ln(\frac{2}{3} + e^{2x}) = x + \ln 2$
 $\Rightarrow \frac{2}{3} + e^{2x} = 2e^{x+\ln 2} = X$
 $\Rightarrow 4X^2 - 8X + 2 = 0$
 $(2X-1)(2X-3) = 0 \Rightarrow e^x = \frac{1}{2} \text{ or } \frac{3}{2}$
 $\Rightarrow \alpha(\ln 2) = \ln \frac{1}{2}, \beta(\ln 2) = \ln \frac{3}{2}$
 이때 $\begin{cases} e^{\alpha(t)} + e^{\beta(t)} = e^t \\ e^{\alpha(t)+\beta(t)} = 1 - e^{-2t} \end{cases} \rightarrow \begin{cases} \alpha'(t)e^{\alpha(t)} + \beta'(t)e^{\beta(t)} = e^t \\ \{\alpha'(t) + \beta'(t)\}e^{\alpha(t)+\beta(t)} = 2e^{-2t} \end{cases}$
 $\Rightarrow \begin{cases} \alpha'(\ln 2) + 3\beta'(\ln 2) = 1 \\ \alpha'(\ln 2) + \beta'(\ln 2) = \frac{2}{3} \end{cases} \Rightarrow \begin{cases} \alpha'(\ln 2) = -1 \\ \beta'(\ln 2) = \frac{5}{3} \end{cases}$
 $\therefore f'(\ln 2) = \sqrt{2} \left(\frac{5}{3} + 1 \right) = \frac{8}{3} \sqrt{2}, p+q = 11$

* 확인 사항

- 답안지의 해당란에 필요한 내용을 정확히 기입(표기)했는지 확인 하시오.
- 이어서, 「선택과목(기하)」 문제가 제시되오니, 자신이 선택한 과목인지 확인 하시오.

